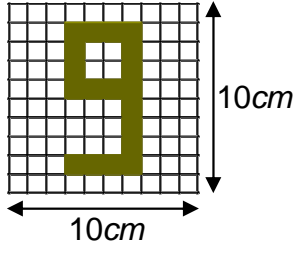
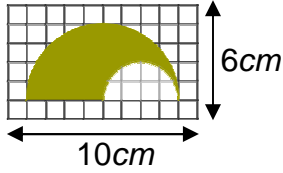


01



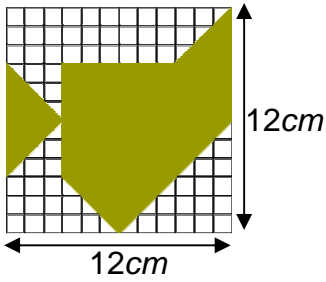
- (1) أحسب محيط الشكل الملون
(2) أحسب مساحة الشكل الملون

02



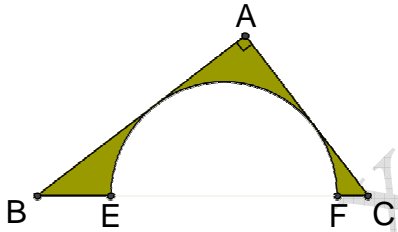
- (1) أحسب محيط الشكل الملون
(2) أحسب مساحة الشكل الملون

03



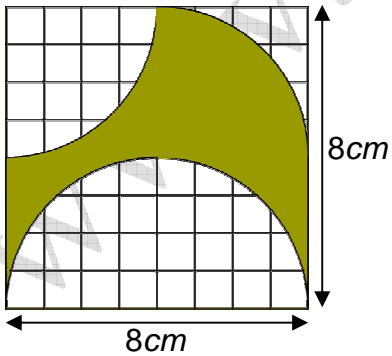
- (1) قارن المساحة الملونة مع المساحة الغير ملونة
(2) أحسب المساحة الملونة

04



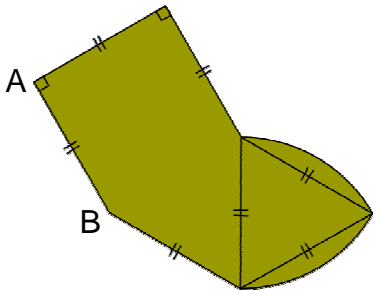
- $AB = 3cm$ ؛ $AC = 4cm$
 $EF = 3,44cm$ ؛ $BC = 5cm$
(1) أحسب محيط الشكل الملون
(2) أحسب مساحة الشكل الملون

05



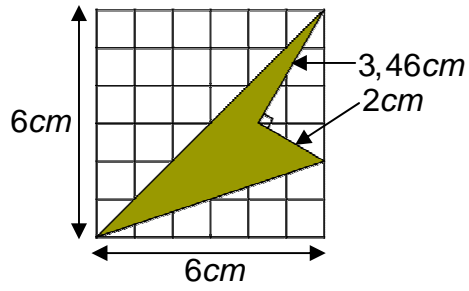
- (1) أحسب محيط الشكل الملون
(2) أحسب مساحة الشكل الملون

06



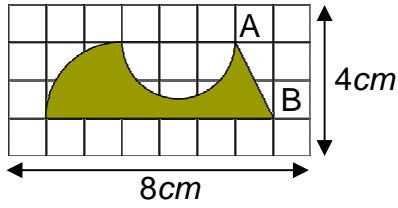
- $AB = 2cm$
(1) أحسب محيط الشكل الملون
(2) أحسب مساحة الشكل الملون

07



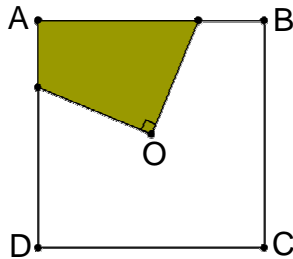
(1) أحسب مساحة الشكل الملون

08



$AB = 2,24\text{cm}$
 (1) أحسب محيط الشكل الملون
 (2) أحسب مساحة الشكل الملون

09



ABCD مربع مركزه O وضلعه 6cm .
 (1) أحسب مساحة الشكل الملون